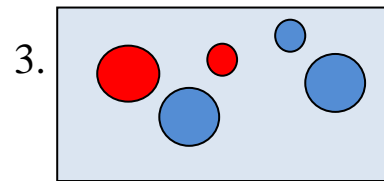
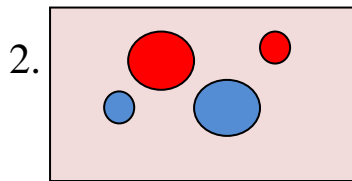
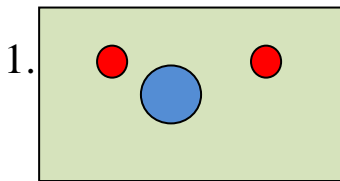


Работа ученика(цы) \_\_\_\_\_ класса \_\_\_\_\_  
Школы \_\_\_\_\_  
ФИ \_\_\_\_\_

## Математика. 1 класс. 1 полугодие

### Вариант 1



**Задание 1.** Рассмотрите рисунки. Сколько красных кружков на каждом рисунке? Ответы запишите в первый столбик таблицы 1.

**Таблица 1**


**Задание 2.** Рассмотрите рисунки. Сколько синих кружков на каждом рисунке? Ответы запишите в третий столбик таблицы 1.

**Задание 3.** Поставьте знак «<», «>» или «=» между числами первого и второго столбиков таблицы 1.


**Задание 4.** Запишите пример на сложение ко второму рисунку. Решите пример.

--	--	--	--	--


**Задание 5.** Запиши пример на вычитание к первому рисунку. Реши пример.

--	--	--	--	--

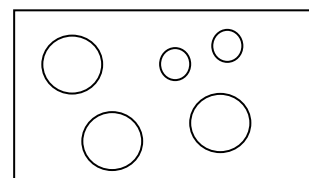
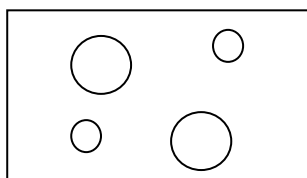
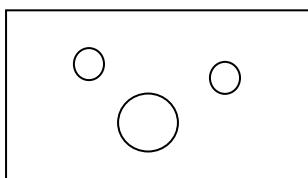
**Задание 6.** Нарисуй кружков меньше, чем на рисунке 2.



**Задание 7.** Нарисуй кружков больше, чем на рисунке 3.



**Задание 8.** Сколько больших кружков на каждом рисунке? Запиши. Найди закономерность и продолжи её.



--	--	--	--	--	--	--	--	--

**Задание 9.** Какой рисунок должен быть следующим за рисунком 3? Нарисуй его.

